

| | |
|----------|--|
| Id | 1 |
| Question | The difference between the simple interest between the simple interest received from two different sources on Rs. 1500 for 3 years is Rs. 13.50. The difference between their rate of interest is - Rs.1500 की धनराशि पर 3 वर्षों का दो भिन्न स्रोतों से प्राप्त ब्याज का अंतर Rs.13.50 है। तो उनकी ब्याज दरों का अंतर बताइए। |
| A | 0.1 % |
| B | 0.2 % |
| C | 0.3 % |
| D | 0.4 % |
| Answer | C |

| | |
|----------|--|
| Id | 2 |
| Question | The maximum number of students among whom 1001 pens and 910 pencils can be distributed in such a way that each student gets same number of pens and same number of pencils, is: छात्रों की अधिकतम संख्या ज्ञात करें जिनके बीच 1001 कलम तथा 910 पेंसिलों को इस तरह बाँटा जाता है कि प्रत्येक छात्र को बराबर संख्या में कलम तथा बराबर संख्या में पेंसिल प्राप्त होता है । |
| A | 91 |
| B | 910 |
| C | 1001 |
| D | 1911 |
| Answer | A |

| | |
|----------|---|
| Id | 3 |
| Question | Unit digit in $(264)^{102} + (264)^{103}$ is : $(264)^{102} + (264)^{103}$ में इकाई का अंक है। |
| A | 0 |
| B | 4 |
| C | 6 |
| D | 8 |
| Answer | A |

| | |
|----------|---|
| Id | 4 |
| Question | Mohan purchased an article and sold it for Rs 2817.50 and earned 15% profit on the cost price. What was the cost price of the article? मोहन ने एक लेख खरीदा और उसे 2817.50 रुपये में बेचा और लागत मूल्य पर 15% लाभ अर्जित किया। लेख का लागत मूल्य क्या था? |
| A | Rs 2500 |
| B | Rs 2450 |
| C | Rs 2550 |
| D | Rs 3315 |
| Answer | B |

| | |
|----------|--|
| Id | 5 |
| Question | The ratio between the boys and girls in a class is 6:5 respectively. If 8 more boys join the class and two girls leave the class then the respective ratio become 11:7. What is the number of boys in the class now? एक कक्षा में लड़के और लड़कियों के बीच का अनुपात क्रमशः 6:5 है। यदि 8 और लड़के क्लास में शामिल होते हैं और दो लड़कियां क्लास छोड़ती हैं तो संबंधित अनुपात 11:7 हो जाता है। अब कक्षा में लड़कों की संख्या कितनी है |
| A | 28 |
| B | 38 |
| C | 44 |
| D | 36 |
| Answer | C |

| | |
|----------|---|
| Id | 6 |
| Question | A train travelling at the speed of 60 kmph crosses a platform in 20 seconds. What is the length of the train? 60 किमी प्रति घंटे की गति से यात्रा करने वाली ट्रेन 20 सेकंड में एक प्लेटफॉर्म को पार करती है। ट्रेन की लंबाई क्या है? |
| A | 333 meters |
| B | 300 meters |
| C | 336 meters |
| D | Cannot be determined निर्धारित नहीं किया जा सकता है |
| Answer | D |

| | |
|----------|--|
| Id | 7 |
| Question | In a college the number of students studying Arts, Commerce and Science are in the ratio of 3:5:8 respectively. If the number of students studying Arts, Commerce and Science is increased by 20%, 40%, and 25% respectively, what will be the new ratio of students in Arts, Commerce and Science respectively? एक कॉलेज में कला,वाणिज्य और विज्ञान पढ़ने वाले छात्रों की संख्या क्रमशः3: 5: 8 के अनुपात में है। यदि आर्ट्स,कॉमर्स और साइंस पढ़ने वाले छात्रों की संख्या में क्रमशः20%, 40%और 25%की वृद्धि होती है,तो क्रमशः कला,वाणिज्य और विज्ञान में छात्रों का नया अनुपात क्या होगा? |
| A | 18: 35: 50 |
| B | 3: 10: 10 |
| C | 4: 8 :5 |
| D | 32: 35: 25 |
| Answer | A |

| | |
|----------|--|
| Id | 8 |
| Question | <p>If the area of a triangle is 1176 cm^2 and the ratio of base corresponding altitude is 3 : 4, then the altitude of the triangle is :</p> <p>किसी त्रिभुज का क्षेत्रफल 1176 सेमी^2 तथा आधार एवं संगत शीर्षलम्ब का अनुपात 3 : 4 है । शीर्षलम्ब की लम्बाई ज्ञात करें ?</p> |
| A | 42 cm |
| B | 52 cm |
| C | 54 cm |
| D | 56 cm |
| Answer | D |

| | |
|----------|---|
| Id | 9 |
| Question | <p>A clock showing the time of 8 o'clock in the morning. How many degrees will the hour needle rotate in the clock by 2 pm?</p> <p>एक घड़ी प्रातः के ८ बजे का समय दर्शा रही है। घड़ी में अपराह्न के २ बजे तक घण्टे की सुई कितने अंश घुमेगी?</p> |
| A | 150 Degree 150 डिग्री |
| B | 144 Degree 144 डिग्री |
| C | 168Degree 168 डिग्री |
| D | 180 Degree 180 डिग्री |
| Answer | D |

| | |
|----------|---|
| Id | 10 |
| Question | <p>A tank is fitted with two taps. The first tap can fill the tank completely in 45 minutes and the second tap can empty the full tank in one hour. If both the taps are opened alternately for one minute, then in how many hours the empty tank will be filled completely?</p> <p>एक टंकी में दो नल लगे हैं,पहला नल टंकी को पूर्णतया 45 मिनट में भरता है और दूसरा नल किसी टैंक को 1 घंटे में खाली करता है.यदि दोनों पाइपो को बारी - बारी से एक - एक मिनट के लिए खोला जाता है तो खाली टंकी को पूर्णतया भरने में कितना समय लगेगा?</p> |
| A | 2 hours 55 minutes |
| B | 3 hours 40 minutes |
| C | 4 hours 48 minutes |
| D | 5 hours 53 minutes |
| Answer | D |

| | |
|----------|---|
| Id | 11 |
| Question | <p>A and B can complete a work in 20 and 30 days respectively. B started the work, after 5 days A replaced B. Find the share of A in Rs 6000 to be given as salary to both of them?</p> <p>A तथा B किसी कार्य को क्रमशः 20 दिन एवं 30 दिन में कर सकते हैं। B ने कार्य करना शुरू किया तथा 5 दिन के बाद B के स्थान पर A कार्य करने लगा। कार्य समाप्ति के बाद 6000 रुपये की कुल मजदूरी में A का हिस्सा ज्ञात करें?</p> |
| A | Rs 1000 |
| B | Rs 2000 |
| C | Rs 3000 |
| D | Rs 5000 |
| Answer | D |

| | |
|----------|--|
| Id | 12 |
| Question | <p>A pole is crossed by a train in 25 seconds and 360 metre. Long platform is crossed in 37 seconds. Find length of train?</p> <p>एक ट्रेन एक पोल को 25 सैकंड में तथा 360 मी. लम्बे एक पुल को 37 सैकंड में पार कर जाती हैं। रेलगाड़ी की लम्बाई बताइये?</p> |
| A | <p>600 metre</p> <p>600 मीटर</p> |
| B | <p>750 metre</p> <p>750 मीटर</p> |
| C | <p>800 metre</p> <p>800 मीटर</p> |
| D | <p>900 metre</p> <p>900 मीटर</p> |
| Answer | B |

| | |
|----------|--|
| Id | 13 |
| Question | <p>Pratap bought a radio at a discount of 25% on the real price. He got 40 Rs more, when he sold it at 140 percent of the cost price. Find the the price at which Pratap bought the radio?</p> <p>प्रताप ने एक रेडियो उसकी वास्तविक कीमत से 25 प्रतिशत छुट पर खरीदा। उसने जब उसे खरीदे गए मूल्य से 140 प्रतिशत पर बेचा तो उसे वास्तविक कीमत से 40 रु. अधिक मिले। उसने किस कीमत पर रेडियो खरीदा था?</p> |
| A | 800 |
| B | 700 |
| C | 900 |
| D | 600 |
| Answer | A |

| | |
|----------|--|
| Id | 14 |
| Question | The total surface area of a hemisphere is 166.23 sq cm, find its radius? एक गोलार्ध के कुल सतह का क्षेत्रफल 166.23 वर्ग से.मी है। उसकी त्रिज्या ज्ञात करो |
| A | 4.2 cm |
| B | 8.4 cm |
| C | 1.4 cm |
| D | 2.1 cm |
| Answer | A |

| | |
|----------|--|
| Id | 15 |
| Question | In an election between two candidates, 75% of the voters cast their votes, out of which 2% votes were declared invalid. A candidate got 9261 votes which were 75% of the valid votes. The total number of voters enrolled in that election was: एक चुनाव में दो उम्मीदवार हैं। 75% मतदाताओं ने वोट डाले, जिसमें से 2% वोट अवैध घोषित कर दिए गए, एक उम्मीदवार को 9261 वोट मिले जो वैध वोटों का 75% है, तो चुनाव में कुल कितने मतदाता हैं ? |
| A | 16000 |
| B | 16400 |
| C | 16800 |
| D | 18000 |
| Answer | C |

| | |
|----------|---|
| Id | 16 |
| Question | 64329 is divided by a certain number, 175, 114 and 213 appear as three successive remainders. The divisor is 64329 को जब किसी संख्या से भाग दिया जाता है, तो 175, 114 तथा 213 लगातार तीन शेषफल आते हैं, तो भाज्य है? |
| A | 184 |
| B | 224 |
| C | 234 |
| D | 296 |
| Answer | C |

| | |
|----------|--|
| Id | 17 |
| Question | <p>In a village, each of the 60 % of families has a cow; each of the 30 % of families has a buffalo and each of the 15 % of families has both a cow and a buffalo. in all there are 96 families in the village. How many families do not have a cow or a buffalo?</p> <p>एक गाँव में , 60 % परिवारों के पास एक गाय है , 30 % परिवारों के पास एक भैंस है तथा 15 % परिवारों के पास गाय - भैंस दोनों है । यदि कुल परिवारों की संख्या 96 है , तो कितने परिवारों के पास एक भी गाय या भैंस नहीं है ?</p> |
| A | 20 |
| B | 24 |
| C | 26 |
| D | 28 |
| Answer | B |

| | |
|----------|---|
| Id | 18 |
| Question | <p>Find the least multiple of 23, which when divided by 18, 21 and 24 leaves the remainder 7, 10 and 13 respectively.</p> <p>23 का न्यूनतम गुणक ज्ञात करें, जिससे 18, 21 तथा 24 से भाग देने पर क्रमशः 7, 10 तथा 13 शेष बचें ?</p> |
| A | 3013 |
| B | 3024 |
| C | 3002 |
| D | 3036 |
| Answer | A |

| | |
|----------|---|
| Id | 19 |
| Question | <p>Direction: What is the approximate value will come in place of the question mark(?) in the following questions?</p> <p>$5682 \div 63 \times 36 = ? \times 19$</p> <p>निम्नलिखित प्रश्नों में प्रश्नवाचक चिन्ह (?)के स्थान पर अनुमानित मान क्या होगा?</p> <p>$5682 \div 63 \times 36 = ? \times 19$</p> |
| A | 170 |
| B | 190 |
| C | 210 |
| D | 240 |
| Answer | A |

| | |
|----------|--|
| Id | 20 |
| Question | <p>The sum of five consecutive even numbers of set A is 280. What is the sum of different set of five consecutive numbers whose lowest number is 71 less than double the lowest number of set A?</p> <p>प्रथम 5 लगातार सम संख्याओं के सेट A का योग 280 हैं। पांच लगातार संख्याओं के विभिन्न सेटों का योग क्या है जिनकी निम्नतम संख्या 71 सेट A की सबसे कम संख्या से दोगुनी है?</p> |
| A | 182 |
| B | 165 |
| C | 172 |
| D | 175 |
| Answer | D |

| | |
|-----------|---|
| Id | 21 – 25 |
| Main Text | <p>Read the following passage and answer the questions based on it.</p> <p>Crude mineral oil comes out of the earth as a thick brown or black liquid with a strong smell. It is a complex mixture of many different substances, each with its own individual qualities. Most of them are combinations of hydrogen and carbon in varying proportions. Such hydrocarbons are also found in other forms such as bitumen, asphalt and natural gas. Mineral oil originates from the carcasses of tiny animals and from plants that live in the sea. Over millions of years, these dead creatures form large deposits under sea – bed and ocean currents cover them with a blanket of sand and slit. As this material hardens, it becomes sedimentary rocks and effectively shuts out the oxygen, so preventing the complete decomposition of the marine deposits underneath. The layers of sedimentary rocks become thicker and heavier. Their pressure produces heat, which transforms the tiny carcasses into crude oil in a process that is still going on today.</p> |
| Question | Marine deposits under the sea do not get decomposed because they |
| A | Become rock and prevent oxygen from entering them |
| B | Are covered by the sand and slit brought by the current |
| C | Contain a mixture of hydrogen and carbon |
| D | Are constantly washed by the ocean current |
| Answer | B |
| Question | Sedimentary rock leads to the formation of oil deposits because |
| A | It becomes hard and forms into rocks which produce oil |
| B | Its pressure produces heat and turns the deposits of animal carcasses and plants into oil |
| C | It turns heavy and shuts out the oxygen |
| D | It becomes heavy and hard, and applies pressures to squeeze oil |
| Answer | B |
| Question | In order to have mineral oil, hydrogen and carbon are combined in |
| A | Equal proportions |
| B | Fixed proportions |
| C | Varying proportions |
| D | The proportion of two and one |
| Answer | C |
| Question | The time it takes for the marine deposits to harden into rocks is |
| A | A few years |
| B | Thousands of years |
| C | Hundreds of years |
| D | Million of year |

| | |
|----------|---------------------------------------|
| Answer | D |
| Question | The most apt title for the passage is |
| A | Crude mineral oil |
| B | How sedimentary rock is formed? |
| C | How mineral oil is formed? |
| D | Marine deposits under the sea |
| Answer | C |
| Marks | 1 |

| | |
|-----------|---|
| Id | 26 – 28 |
| Main Text | Choose the word which is opposite in meaning of the words given in each question. |
| Question | Wealthy |
| A | Wicked |
| B | Famous |
| C | Ill |
| D | Poor |
| Answer | D |
| Question | Dull |
| A | Pale |
| B | Wise |
| C | Shining |
| D | Colourful |
| Answer | C |
| Question | Extrovert |
| A | Boaster |
| B | Mixer |
| C | Introvert |
| D | Social |
| Answer | C |
| Marks | 1 |

| | |
|-----------|--|
| Id | 29 – 30 |
| Main Text | Choose the word /phrases which is most similar in meaning to the word phrases from the following options in each question. |
| Question | Erotic |
| A | Wandering |
| B | Given to mistakes |
| C | Difficult |
| D | Amorous |
| Answer | D |
| Question | Sporadic |
| A | Epidemic |
| B | Whirling |
| C | Occasional |
| D | Stagnant |
| Answer | C |

| | |
|-----------|--|
| ID | 31 – 33 |
| Main Text | In each of the following questions find out the alternative which will replace the questions mark. नीचे दिए गये प्रत्येक प्रश्न में दो युग्म दिये गये हैं जिनमें पहले युग्म के दोनों पदों में एक सम्बन्ध दिया गया है तथा दूसरे युग्म का एक पद लुप्त है दिये गये विकल्पों में से वह विकल्प चुनिये जो दूसरे युग्म के पद से समान सम्बन्ध रखता हो |
| Question | Poetry : Rhyme : : Philosophy : ? कविता : तुक :: दर्शनशास्त्र : ? |
| A | Music संगीत |
| B | Law कानून |
| C | Theory सिद्धांत |
| D | Imagery कल्पना |
| Answer | C |
| Question | Principal : Doctrine : : Living: ? नियम : सिद्धांत :: जीना: ? |
| A | Dead मृत्यु |
| B | Will इच्छा |
| C | Livelihood जीविका |
| D | Likelihood संभावना |
| Answer | C |
| Question | Drum : Instrument : : Drill : ? नगाड़ा : वाद्ययंत्र :: ड्रिल : ? |
| A | Hammer हतौड़ा |
| B | Oven |

| | |
|--------|--------------------|
| | ओवन |
| C | Tool औजार |
| D | Crescendo चढ़ाई |
| Answer | C |

| | |
|----------|---|
| Id | 34 |
| Question | A man said, "This girl is the wife of the grandson of my mother." How is the man related to a girl? एक आदमी कहता है , "यह लड़की मेरी माँ के पौत्र की पत्नी है" उस आदमी का उस औरत के साथ क्या सम्बन्ध है? |
| A | Father पिता |
| B | Grandfather दादा |
| C | Husband पति |
| D | Father-in-law ससुर |
| Answer | D |

| | |
|----------|---|
| Id | 35 |
| Question | <p>Introducing a man, a woman said, “He is the only son of my mother’s mother”. How is the woman related to the man?</p> <p>एक आदमी का परिचय देते हुए औरत कहती है, “मेरी माँ की माँ का एकमात्र पुत्र है” उस औरत का उस व्यक्ति से क्या सम्बन्ध है?</p> |
| A | Mother माँ |
| B | Aunt बुआ |
| C | Sister बहन |
| D | Niece भानजी |
| Answer | D |

| | |
|-----------|---|
| ID | 36 – 38 |
| Main Text | In each of the following questions, four words have been given out of which three are alike in same manner, while the fourth one is different. Choose out the different one. नीचे दिये गये प्रत्येक प्रश्न में चार शब्द दिये गये हैं जिनमें से तीन निश्चित तरीके से समान हैं जब कि चौथा तीनों से भिन्न है। भिन्न शब्द ज्ञात कीजिये । |
| Question | Choose the different word from the following. निम्न में से भिन्न शब्द चुनिये । |
| A | Iron लोहा |
| B | Sodium सोडियम |
| C | Chlorine क्लोरीन |
| D | Iodine आयोडीन |
| Answer | A |
| Question | Choose the different word from the following. निम्न में से भिन्न शब्द चुनिये । |
| A | Mars मंगल |
| B | Sun सूर्य |
| C | Saturn शनि |
| D | Pluto प्लूटो |
| Answer | B |
| Question | Choose the different word from the following. निम्न में से भिन्न शब्द चुनिये । |
| A | Blacksmith लौहार |
| B | Hammer हथोड़ा |
| C | Axe |

| | |
|--------|---------------|
| | कुल्हाड़ी |
| D | Knife चाकू |
| Answer | A |

| | |
|----------|--|
| Id | 39 |
| Question | In a certain code, 'OPERATION' is written as 'NODQBUJPO', how will be 'INVISIBLE' written in that code? एक कूट भाषा में 'OPERATION' को 'NODQBUJPO' लिखा जाता है उसी कूट भाषा में 'INVISIBLE' को कैसे लिखा जायेगा? |
| A | HMUHTJCMF |
| B | HMUHTHAKD |
| C | JOWJTHAKD |
| D | JOWJTJCMF |
| Answer | A |

| | |
|----------|---|
| Id | 40 |
| Question | In a certain code, 'GRASP' is coded as 'BMVNK' which word would be coded as 'CRANE'? एक निश्चित कूट भाषा में 'GRASP' को 'BMVNK' लिखा जाता है उसी कूट भाषा में 'CRANE' को कैसे लिखा जायेगा? |
| A | FUDQH |
| B | HWFST |
| C | GVERI |
| D | XMVIZ |
| Answer | D |

| | |
|-----------|--|
| ID | 41 – 43 |
| Main Text | In each of the following questions a number series is given with one term missing. Choose the correct alternative that will continue the same pattern and fill in the blank spaces. नीचे दिये गये प्रत्येक प्रश्न में एक श्रेणी दी गयी है जिसमें एक पद लुप्त है दिये विकल्पों में से उस सही विकल्प को चुनिये जो दी गयी श्रेणी का अनुसरण करता हो |
| Question | 15, 45, 135, 405, ? |
| A | 550 |
| B | 650 |
| C | 945 |
| D | 1215 |
| Answer | D |
| Question | 3, 7, 15, 31, 61, ? |
| A | 125 |
| B | 112 |
| C | 127 |
| D | 118 |
| Answer | C |
| Question | 5, 12, 26, 54, 110, ? |
| A | 220 |
| B | 222 |
| C | 210 |
| D | 156 |
| Answer | B |

| | |
|-----------|---|
| ID | 44 – 46 |
| Main Text | <p>Study the following information carefully and answer the question given below.</p> <p>A, B, C, D, E, F, G, H and K are sitting around a circular table facing centre. B is fourth to the left of G, who is second to the right of C. F is fourth to the right of C and second to the left of K. A is fourth of to the right of K. D is not immediate neighbour of either K or B. H is third to the right of E.</p> <p>नीचे दी गयी जानकारी को ध्यानपूर्वक पढ़िये तथा दिये गये प्रश्नों के उत्तर दीजिये A,B,C,D,E,F,G,H तथा K एक गोल मेज के चारो तरफ केन्द्र की ओर मुँह करके बैठे हैं B, G के बाएं चौथा है जो C के दायें दूसरा है F,C के दायें चौथा है तथा K के बाएं दूसरा है A,K के दायें चौथा है D, ना तो K का पड़ोसी है और ना ही B का H,E के दायें तीसरा है </p> |
| Question | <p>Who is fourth to the right of D? D के दायें चौथा कौन है?</p> |
| A | K |
| B | H |
| C | E |
| D | B |
| Answer | D |
| Question | <p>In which of following combinations is the third person setting in between the first and second persons? नीचे दिये किस संयोजन में तीसरा व्यक्ति , पहले तथा दूसरे व्यक्ति के बीच में बैठा है?</p> |
| A | EKB |
| B | CHB |
| C | AGC |
| D | FGD |
| Answer | D |
| Question | <p>Who is third to the right of H? H के दायें तीसरा कौन है?</p> |
| A | A |
| B | D |
| C | G |
| D | F |
| Answer | C |






| | |
|----------|---|
| Id | 47 |
| Question | Arrange the words given below in a meaningful sequence. 1. Police 2. Punishment 3. Crime 4. Judge 5. Judgement नीचे दिये गये शब्दों को एक सार्थक क्रम में व्यवस्थित करें। १. पुलिस २. सजा ३. अपराध ४. जज ५. निर्णय |
| A | 3, 1, 2, 4, 5. |
| B | 1, 3, 4, 2, 5. |
| C | 3, 1, 4, 5, 2. |
| D | 2, 4, 1, 5, 3. |
| Answer | C |

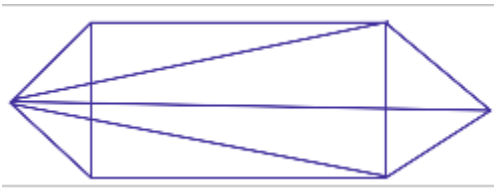
| | |
|----------|---|
| Id | 48 |
| Question | Arrange the words given below in a meaningful sequence. 1. Sentence 2. Chapter 3. Word 4.Paragraph 5. Book |
| A | 2, 3, 1, 5, 4. |
| B | 3, 2, 5, 4, 1. |
| C | 5, 2, 4, 1, 3. |
| D | 5, 3, 2, 4, 1. |
| Answer | C |

| | |
|----------|---|
| Id | 49 |
| Question | Today is Tuesday. What day will it be 62 days from today? आज मंगलवार है. आज से 62 दिन बाद कोनसा दिन होगा ? |
| A | Wednesday बुधवार |
| B | Tuesday मंगलवार |
| C | Monday सोमवार |
| D | Sunday रविवार |
| Answer | C |

| | |
|----------|---|
| Id | 50 |
| Question | <p>In a row of girls, Kamya is 5th from the left and Preeti is sixth from right. When they exchange their position, then Kamya becomes 13th from the left. What is the new position of Preeti from right?</p> <p>लड़कियों की एक पंक्ति में , काम्या का स्थान बाँये से 5 वां व प्रीति का स्थान दाँये से 6 वां है । जब वे अपना स्थान आपस में बदलते है तो काम्या का स्थान बाँये से 13 वाँ हो जाता है । प्रीति का दाँये से नया स्थान बताओ ?</p> |
| A | 7 |
| B | 11 |
| C | 14 |
| D | 18 |
| Answer | C |

| | |
|----------|--|
| Id | 51 |
| Question | <p>Three of the following four number-pairs are alike in a certain way and one is different. Find the odd one out.</p> <p>निम्नलिखित चार में से तीन नंबर जोड़े एक निश्चित तरीके से एक जैसे हैं और एक अलग है। विषम चुनें।</p> |
| A | 3 : 18 |
| B | 7 : 70 |
| C | 4 : 24 |
| D | 9 : 108 |
| Answer | C |

| | |
|----------|--|
| Id | 52 |
| Question | <p>Select the figure that will come next in the following figure series. उस आकृति का चयन करें जो अगले आकृति श्रृंखला में आएगी।</p> <div data-bbox="342 327 956 457" style="border: 1px solid black; padding: 5px; display: flex; justify-content: space-around; align-items: center;">  </div> |
| A | <div data-bbox="360 575 469 684" style="border: 1px solid black; padding: 5px; display: flex; justify-content: center; align-items: center;">  </div> |
| B | <div data-bbox="339 756 456 873" style="border: 1px solid black; padding: 5px; display: flex; justify-content: center; align-items: center;">  </div> |
| C | <div data-bbox="352 959 457 1064" style="border: 1px solid black; padding: 5px; display: flex; justify-content: center; align-items: center;">  </div> |
| D | <div data-bbox="352 1152 456 1257" style="border: 1px solid black; padding: 5px; display: flex; justify-content: center; align-items: center;">  </div> |
| Answer | A |

| | |
|----------|--|
| Id | 53 |
| Question | Find the number of triangles in the given figure. दी गई आकृति में त्रिभुजों की संख्या ज्ञात कीजिए |
| |  |
| A | 11 |
| B | 14 |
| C | 16 |
| D | More than 22 |
| Answer | D |

| | |
|----------|---|
| Id | 54 |
| Question | If $1+4=9$, $2+8=18$, $3+6=15$ then the value of $7+8=?$ यदि $1+4=9$, $2+8=18$, $3+6=15$ है तो $7+8=?$ |
| A | 41 |
| B | 23 |
| C | 30 |
| D | 32 |
| Answer | B |

| | |
|----------|---|
| Id | 55 |
| Question | Sonia left her house and went 4 km east then she turned left and walked 6 km. Then she turned right and walked 4 km. How far is he from the departure point? सोनिया अपने घर से चली और 4 किमी पूर्व की ओर गई तब वह बाएं घूमी और 6 किमी चली। फिर वह दाएं घूमी और 4 किमी चली। वह प्रस्थान स्थल से कितनी दूरी पर है? |
| A | 14 km 14 किमी |
| B | 8 km 8 किमी |
| C | 5 km 5 किमी |
| D | 10 km 10 किमी |
| Answer | D |

| | |
|----------|--|
| Id | 56 |
| Question | If PKROK code with 72962 and KRRPK coded with 29972 then how will be coded NJMLZ? यदि PKROK को 72962 और KRRPK को 29972 के रूप में कोडित किया जाता है तो NJMLZ को कैसे कोडित किया जाएगा? |
| A | 74314 |
| B | 91572 |
| C | 51430 |
| D | 45176 |
| Answer | C |

| | |
|----------|---|
| Id | 57 |
| Question | From the given alternative words, select the word which cannot be formed using the letters of the given word: MERCHANDISE दिए गए वैकल्पिक शब्दों से, उस शब्द का चयन करें जिसे दिए गए शब्द के अक्षरों का उपयोग करके गठित नहीं किया जा सकता है। |
| A | MESH |
| B | DICE |
| C | CHARM |
| D | CHANGE |
| Answer | D |

| | |
|----------|--|
| Id | 58 |
| Question | Arrange the given words in the sequence in which they occur in the dictionary. दिए गए शब्दों को अंग्रेजी शब्दकोश के क्रमानुसार व्यवस्थित कीजिए। (1) Necrology (2) Nacromancy (3) Necropolis (4) Nacrophilia |
| A | (1), (2),(3),(4) |
| B | (1) (2) (4) (3) |
| C | (2), (1), (3), (4) |
| D | (2), (1), (4), (3) |
| Answer | B |

| | |
|----------|--|
| Id | 59 |
| Question | Complete the following alphabet series. निम्नलिखित वर्णमाला श्रृंखला को पूरा करें। ABC, PQR, DEF, STU, ? |
| A | VWX |
| B | GHI |
| C | IJK |
| D | GKL |
| Answer | B |

| | |
|----------|--|
| Id | 60 |
| Question | In following questions select the one which is different from other three responses. निम्नलिखित प्रश्न में, एक विकल्प का चयन करें जो अन्य तीन विकल्पों से भिन्न है। |
| A | I |
| B | E |
| C | B |
| D | O |
| Answer | C |

| | |
|----------|--|
| Id | 61 |
| Question | Which Bank has become the first Indian bank to have an office in Australia's Victoria? कौनसा बैंक ने ऑस्ट्रेलिया के विक्टोरिया में कार्यालय बनाने वाला पहला भारतीय बैंक बन गया है |
| A | Axis Bank एक्सिस बैंक |
| B | PNB पीएनबी |
| C | SBI एसबीआई |
| D | HDFC Bank एचडीएफसी बैंक |
| Answer | C |

| | |
|----------|--|
| Id | 62 |
| Question | Who has been appointed by RBI as administrator for PMC Bank? किसको आरबीआई ने पीएमसी बैंक के लिए प्रशासक नियुक्त किया है ? |
| A | Shaktikanta Das शक्तिकांत दास |
| B | Jai Bhagwan Bhoria जय भगवान भोरीया |
| C | N. S. Vishwanathan एन. एस. विश्वनाथन |
| D | B. P. Kanungo बी. पी कानूनगो |
| Answer | B |

| | |
|----------|---|
| Id | 63 |
| Question | In which city, Tenth edition of the joint Military Exercise Ekuverin between the Indian Army and the Maldives National Defense Force was organized? किस शहर में भारतीय सेना और मालदीव नेशनल डिफेंस फोर्स के बीच संयुक्त अभ्यास एक्यूवरिन का दसवां संस्करण आयोजित किया गया? |
| A | Pune पुणे |
| B | Visakhapatnam विशाखापट्टनम |
| C | Umroi उमरोई |
| D | Nashik नासिक |
| Answer | A |

| | |
|----------|---|
| Id | 64 |
| Question | Who flagged off the New Delhi- Katra 'Vande Bharat' Express, in New Delhi? किसने नई दिल्ली से कटरा 'वर्दे भारत' रेलगाडी को हरी झंडी दिखाकर रवाना किया? |
| A | Raj Nath Singh राज नाथ सिंह |
| B | Nirmala Sitharaman निर्मला सीतारमण |
| C | Amit shah अमित शाह |
| D | Bipin Rawat बिपिन रावत |
| Answer | C |

| | |
|----------|--|
| Id | 65 |
| Question | Koneru Humpy is related to which sports? कोनेरु हंपी किस खेल से संबंधित है? |
| A | Table Tennis टेबल टेनिस |
| B | Chess शतरंज |
| C | Tennis टेनिस |
| D | Badminton बैडमिंटन |
| Answer | B |

| | |
|----------|---|
| Id | 66 |
| Question | In which city, World Women's Boxing Championship was held? किस शहर में विश्व महिला मुक्केबाजी चैम्पियनशिप संपन्न हुई ? |
| A | Ulan Ude, Russia उलान उडे, रूस |
| B | Tokyo, Japan टोक्यो, जापान |
| C | Paris, France पेरिस, फ्रांस |
| D | Beijing, China बीजिंग, चीन |
| Answer | A |

| | |
|----------|---|
| Id | 67 |
| Question | Which country has released a commemorative postage stamp on Mahatma Gandhi? किस देश ने महात्मा गांधी पर एक स्मारक डाक टिकट जारी किया है? |
| A | Bahrain बहरीन |
| B | Uzbekistan उज्बेकिस्तान |
| C | Israel इज़राइल |
| D | Palestine फिलिस्तीन |
| Answer | D |

| | |
|----------|---|
| Id | 68 |
| Question | Ravindra jadeja become the fastest left-arm bowler to take the 200 Test wicket. He has achieved this milestone in how many matches? रवींद्र जडेजा 200 टेस्ट विकेट लेने वाले सबसे तेज बाएं हाथ के गेंदबाज बने इन्होंने कितने मैचों में यह मुकाम हासिल किया है ? |
| A | 45 |
| B | 44 |
| C | 43 |
| D | 42 |
| Answer | B |

| | |
|----------|--|
| Id | 69 |
| Question | In which city, 22 nd India International Security Expo 2019 was held? किस शहर में 22 वां इंडिया इंटरनेशनल सिक््योरिटी एक्सपो 2019 आयोजित हुआ ? |
| A | Mumbai मुंबई |
| B | New Delhi नई दिल्ली |
| C | Kolkata कोलकाता |
| D | Dehradun देहरादून |
| Answer | B |

| | |
|----------|--|
| Id | 70 |
| Question | In which city, India-Bangladesh Business Forum held? किस शहर में भारत- बांग्लादेश व्यापार मंच आयोजित हुआ? |
| A | Mumbai मुंबई |
| B | New Delhi नई दिल्ली |
| C | Kolkata कोलकाता |
| D | Dehradun देहरादून |
| Answer | B |

| | |
|----------|---|
| Id | 71 |
| Question | Who inaugurated Goa Maritime Conclave (GMC)- 2019? किसने गोवा मैरीटाइम कॉन्क्लेव (जीएमसी)- 2019 का उद्घाटन किया? |
| A | Ajit Kumar Doval अजीत कुमार डोभाल |
| B | Rajinder Khanna राजिंदर खन्ना |
| C | Pankaj Saran पंकज सरन |
| D | Rajiv Kumar राजीव कुमार |
| Answer | A |

| | |
|----------|---|
| Id | 72 |
| Question | Which day was observed as World Cotton Day? कौनसा दिन विश्व कपास दिवस के रूप में मनाया गया ? |
| A | 1 October 1 अक्टूबर |
| B | 2 October 2 अक्टूबर |
| C | 5 October 5 अक्टूबर |
| D | 7 October 7 अक्टूबर |
| Answer | D |

| | |
|----------|---|
| Id | 73 |
| Question | Dr. H L Trivedi has passed away recently. He was the -----. डॉ. एच एल त्रिवेदी का हाल ही में निधन हो गया वह ----- थे । |
| A | Writer लेखन |
| B | Athlete एथलीट |
| C | Scientist वैज्ञानिक |
| D | Surgeon सर्जन |
| Answer | D |

| | |
|----------|---|
| Id | 74 |
| Question | Muktesh kumar Pardeshi has been appointed as the next High Commissioner of India to which country? मुक्तेश कुमार परदेशी किस देश के लिए भारत के अगले उच्चायुक्त के रूप में नियुक्त किए गए हैं ? |
| A | Niue नीयू |
| B | Sudan सूडान |
| C | Nauru नौरु |
| D | South Sudan दक्षिण सूडान |
| Answer | A |

| | |
|----------|---|
| Id | 75 |
| Question | As per Fourth Bi- monthly Monetary police Statement, What is the current Repo Rate? चौथे व्दि- मासिक मौद्रिक नीति वक्तव्य के अनुसार, वर्तमान रेपो दर क्या है ? |
| A | 5.10% |
| B | 5.40% |
| C | 5.15% |
| D | 5.00% |
| Answer | C |

| | |
|----------|---|
| Id | 76 |
| Question | Who is the new Chief Justice of the Kerala High Court? केरल उच्च न्यायालय के नए मुख्य न्यायाधीश कौन हैं? |
| A | A mani Kumar ए मणि कुमार |
| B | J K Maheshwari जे के माहेश्वरी |
| C | L N Swamy एल एन स्वामी |
| D | Ravi Shankar Jha रविशंकर झा |
| Answer | A |

| | |
|----------|--|
| Id | 77 |
| Question | Farook Khan has passed away recently. He was the -----. फारूक खान का हाल ही में निधन हो गया वह ----- थे |
| A | Scientist वैज्ञानिक |
| B | Journalist पत्रकार |
| C | Doctor डॉक्टर |
| D | Athlete एथलीट |
| Answer | B |

| | |
|----------|---|
| Id | 78 |
| Question | Who become the first Indian to play 100 T20 international matches? कौन 100 टी 20 आंतरराष्ट्रीय मैच खेलने वाली पहली भारतीय बर्नी? |
| A | Poonam Yadav पूनम यादव |
| B | Smriti Mandhana स्मृति मंधाना |
| C | Mithali raj मिताली राज |
| D | Harmanpreet Kaur हरमनप्रीत कौर |
| Answer | D |

| | |
|----------|--|
| Id | 79 |
| Question | India's first 'corporate' train Tejas Express launched on the which route? भारत की पहली 'कॉर्पोरेट' ट्रेन तेजस एक्सप्रेस किस मार्ग पर शुरू की गई? |
| A | Agra-Bhopal आगरा- बोपाल |
| B | Delhi- Chandigarh दिल्ली-चंडीगढ़ |
| C | Delhi-Lucknow दिल्ली-लखनऊ |
| D | Bhopla- Gwalior भोपाल- ग्वालियर |
| Ans wer | C |

| | |
|----------|---|
| Id | 80 |
| Question | Who has been elected as President of the Mumbai Cricket Association? किसको मुंबई क्रिकेट एसोसिएशन के अध्यक्ष के रूप में चुना गया है? |
| A | H. S. Arora एच. एस. अरोड़ा |
| B | Nilesh Shah निलेश शाह |
| C | Vijay Patil विजय पाटील |
| D | Sanjay Naik संजय नाइक |
| Answer | C |

| | |
|----------|---|
| Id | 81 |
| Question | In which city, Round Square International Conference 2019 was held? किस शहर में राउंड स्क्वायर इंटरनेशनल कॉन्फ्रेंस 2019 आयोजित की गई? |
| A | Lucknow लखनऊ |
| B | Indore इंदौर |
| C | Jaipur जयपुर |
| D | Gurugram गुरुग्राम |
| Answer | B |

| | |
|----------|---|
| Id | 82 |
| Question | Which day is observed as World Post Day? किस दिन को विश्व डाक दिवस के रूप में मनाया जाता है? |
| A | 7 October 7 अक्टूबर |
| B | 9 October 9 अक्टूबर |
| C | 1 October 1 अक्टूबर |
| D | 5 October 5 अक्टूबर |
| Answer | B |

| | |
|----------|---|
| Id | 83 |
| Question | Which state government has introduced the Mukhya Mantri Kanya Sumangala Yojana? किस राज्य सरकार में मुख्यमंत्री कन्या सुमंगला योजना की शुरुआत की ? |
| A | Madhya Pradesh मध्य प्रदेश |
| B | Andhara Pradesh आंध्र प्रदेश |
| C | Uttar Pradesh उत्तर प्रदेश |
| D | Kerala केरल |
| Answer | C |

| | |
|----------|--|
| Id | 84 |
| Question | Indian Air Force has celebrated its ----- anniversary on 8 th October. भारतीय वायु सेना ने 8 अक्टूबर को अपनी ----- वर्षगांठ मनाई है। |
| A | 87 th 87 ^{वीं} |
| B | 86 th 86 ^{वीं} |
| C | 84 th 84 ^{वीं} |
| D | 88 th 88 ^{वीं} |
| Answer | A |

| | |
|----------|---|
| Id | 85 |
| Question | In which city, India's first e-waste clinic will be set up? किस शहर में देश का पहला ई-कचरा क्लिनिक स्थापित किया जाएगा? |
| A | Mumbai मुंबई |
| B | Bhopal भोपाल |
| C | Kolkata कोलकाता |
| D | Agra आगरा |
| Answer | B |

| | |
|----------|---|
| Id | 86 |
| Question | Who has been awarded Nobel Prize 2019 for physics? किसे भौतिकी के लिए नोबेल पुरस्कार 2019 दिया गया है? |
| A | James Peebles जेम्स पीबल्स |
| B | Michel Mayor मिशेल मेयर |
| C | Didier Queloz डिडिएर क्वेलोज़ |
| D | All of the above उपरोक्त सभी |
| Answer | D |

| | |
|----------|--|
| Id | 87 |
| Question | Antonio Costa has been re-elected as the prime Minister of which country? एंटोनियो कोस्टा को किस देश के प्रधानमंत्री के रूप में फिर से चुना गया है? |
| A | Nigeria नाइजीरिया |
| B | Portugal पुर्तगाल |
| C | Malawi मलावी |
| D | Ghana घाना |
| Answer | B |

| | |
|----------|---|
| Id | 88 |
| Question | Naomi Osaka has won the China Open held in Beijing, China. She is from which country? नाओमी ओसाका ने बीजिंग, चीन में आयोजित चाइना ओपन जीता है वह किस देश से है ? |
| A | China चीन |
| B | Japan जपान |
| C | South Korea दक्षिण कोरिया |
| D | North Korea उत्तर कोरिया |
| Answer | B |

| | |
|----------|---|
| Id | 89 |
| Question | Nobel Prize in Literature awarded to Olga Tokarczuk for 2018. She is from which country? साहित्य में नोबेल पुरस्कार 2018. के लिए ओल्गा टोकर्कजुक को दिया गया वह किस देश से है? |
| A | Poland पोलैंड |
| B | Canada कनाडा |
| C | Australia ऑस्ट्रेलिया |
| D | Serbia सर्बिया |
| Answer | B |

| | |
|----------|---|
| Id | 90 |
| Question | Who becomes 1 st female player to complete 20 yrs in international cricket? कौन अंतर्राष्ट्रीय क्रिकेट में 20 साल पूरे करने वाली पहली महिला खिलाड़ी बनी ? |
| A | Punam Raut पुनम राउत |
| B | Harmanpreet Kaur हरमनप्रीत कौर |
| C | Smriti Mandhana स्मृति राज |
| D | Mithali Raj मिताली राज |
| Answer | D |

| | |
|----------|--|
| Id | 91 |
| Question | निम्नलिखित शब्द के आगे चार चार शब्द दिए गए। इनमें से उचित समानार्थक पर्याय चुनकर चिन्हित करें। दर्प |
| A | तिरस्कार |
| B | अहंकार |
| C | स्वाभीमान |
| D | गर्व |
| Answer | D |

| | |
|----------|--|
| Id | 92 |
| Question | घनश्याम का अर्थ है काला बादल, इसका दूसरा अर्थ है |
| A | विष्णु |
| B | घने बादल |
| C | कृष्ण |
| D | घने बाल |
| Answer | B |

| | |
|----------|---|
| Id | 93 |
| Question | निम्नलिखित में से सही शब्द-शुद्धि का चुनाव कीजिए। |
| A | युधिष्ठिर |
| B | युद्धिष्टर |
| C | युधिष्टर |
| D | युद्विष्ठर |
| Answer | A |

| | |
|----------|---|
| Id | 94 |
| Question | दिए गए विकल्पों में से सही/शुद्ध वर्तनी वाले शब्द का चुनाव कीजिए। |
| A | अंतगत |
| B | अतिआवश्यक |
| C | क्रियान्वायन |
| D | अतिरंजित |
| Answer | D |

| | |
|----------|---|
| Id | 95 |
| Question | निम्नलिखित में से भाव-वाच्य वाक्य का चयन कीजिए। |
| A | सीता कपड़े सीती है। |
| B | यहाँ बैठा नहीं जाता। |
| C | कपड़ा सिया जाता है। |
| D | मेरे द्वारा पुस्तक पढ़ी गई। |
| Answer | B |

| | |
|----------|---|
| Id | 96 |
| Question | निम्नलिखित प्रश्न में दिए गए वाक्य में से कुछ में त्रुटि है और कुछ ठीक हैं। त्रुटि वाले वाक्य में जिस भाग में त्रुटि हो, उस भाग का अक्षरांक (अ,ब,स अथवा द) ही आपका उत्तर है। यदि वाक्य में कोई त्रुटि न हो 'कोई त्रुटि नहीं' को उत्तर के रूप के चिन्हित कीजिए |
| A | आंतकवाद शायद एक दिषाहीन |
| B | उद्देष्यहीन अंधरा है |
| C | जो विष्व।षांति एवं प्रगति को निगल रहा हैं। |
| D | कोई त्रुटि नहीं। |
| Answer | A |

| | |
|----------|---|
| Id | 97 |
| Question | वाक्यांश के लिए एक सार्थक शब्द- जो ममत्व से रहित हो। |
| A | निरामय |
| B | निर्मोही |
| C | निर्मम |
| D | निष्ठुर |
| Answer | C |

| | |
|----------|---|
| Id | 98 |
| Question | मुख्य क्रिया के अर्थ को कौन सी क्रिया स्पष्ट और पूर्ण करती है ? |
| A | सहायक |
| B | प्रेरणार्थक |
| C | नामबोधक |
| D | नामधातु |
| Answer | A |

| | |
|----------|--|
| Id | 99 |
| Question | वाक्यांश के लिए एक सार्थक शब्द - जिसकी गर्दन सुन्दर है। |
| A | सुदर्षन |
| B | सुगत |
| C | सुगर्दन |
| D | सुग्रीव |
| Answer | D |

| | |
|----------|--|
| Id | 100 |
| Question | “तुम खा रहे हो,” वाक्य में सहायक क्रिया है - |
| A | हो |
| B | खा |
| C | रहे |
| D | इनमे मे से कोई नहीं |
| Answer | C |